

Personen und Gegebenheiten merken, 1. Teil

Multicheck Beauty



Merken Sie sich die Personen.
Später werden wir Ihnen Fragen
über diese Personen stellen.



Beispiel

Personen und Gegebenheiten merken, 2. Teil



Merken Sie sich folgenden Text:

Beim Modellieren wird mit Hilfe bestimmter Tricks das Gesicht optisch verändert. Dies ist eine der, selbst für Profis, schwierigsten Tätigkeiten beim MakeUp.



Beispiel

Deutsch, 1. Teil

Multicheck Beauty



Ordnen Sie die Wörter zu. Geben Sie die entsprechende Nummer ein!

Mit Einfühlungsvermögen, handwerklichem und gestalterischem --1-- sowie fundiertem Fachwissen erfüllen Coiffeusen und Coiffeure die verschiedensten --2-- von Menschen jeden Typs.

Frisurenwünsche

Können



Beispiel

Deutsch, 1. Teil

Multicheck Beauty



Ordnen Sie die Wörter zu. Geben Sie die entsprechende Nummer ein!

Mit Einfühlungsvermögen, handwerklichem und gestalterischem --1-- sowie fundiertem Fachwissen erfüllen Coiffeusen und Coiffeure die verschiedensten --2-- von Menschen jeden Typs.

Frisurenwünsche

Können



Beispiel

Lösung

Deutsch, 2. Teil

Multicheck Beauty



Klicken Sie auf den falschen
Buchstaben!

H a m m x r



Beispiel

Deutsch, 2. Teil

Multicheck Beauty



Klicken Sie auf den falschen
Buchstaben!

H a m m x r



Beispiel

Lösung



Zu einem Text finden Sie jeweils drei Aussagen, von denen nur eine zutrifft. Markieren Sie die zutreffende Aussage.

Ein Baugerüst muss den sicherheitstechnischen Anforderungen genügen und mit den entsprechenden Vorrichtungen (Leitern, Geländern etc.) ausgerüstet sein. Grössere Gerüste werden heute fast durchwegs aus Metallrohren, Trägern und Stützen mit Netzabdeckungen etc. erstellt.

- Die Netze schützen die Bauarbeiter vor lästigen Zuschauern.
- Es gibt Vorschriften für das Aufstellen von Baugerüsten.
- Geländer müssen nicht unbedingt installiert werden.



Beispiel



Zu einem Text finden Sie jeweils drei Aussagen, von denen nur eine zutrifft. Markieren Sie die zutreffende Aussage.

Ein Baugerüst muss den sicherheitstechnischen Anforderungen genügen und mit den entsprechenden Vorrichtungen (Leitern, Geländern etc.) ausgerüstet sein. Grössere Gerüste werden heute fast durchwegs aus Metallrohren, Trägern und Stützen mit Netzabdeckungen etc. erstellt.

- Die Netze schützen die Bauarbeiter vor lästigen Zuschauern.
- Es gibt Vorschriften für das Aufstellen von Baugerüsten.
- Geländer müssen nicht unbedingt installiert werden.



Beispiel

Lösung



Lösen Sie die Aufgabe!

Das Make-up korrigiert folgendes Augenmerkmal.



- vorstehend
- tiefliegend
- engstehend



Beispiel



Lösen Sie die Aufgabe!

Das Make-up korrigiert folgendes Augenmerkmal.



- vorstehend
- tiefliegend
- engstehend



Beispiel

Lösung

Konzentration, 1. Teil

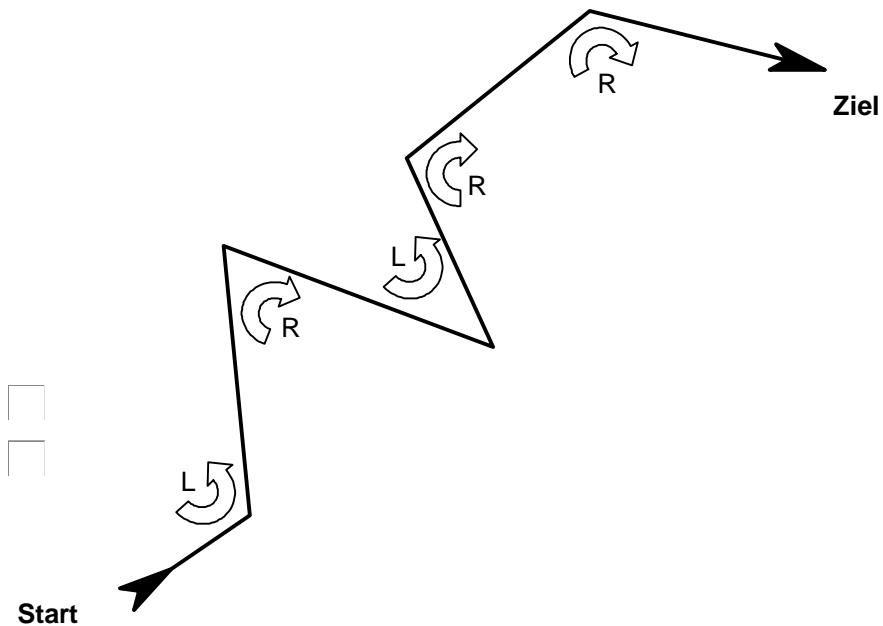
Multicheck Beauty



In der Zeichnung finden Sie einen Weg vom Start zum Ziel.
Auf diesem Weg erfolgen mehrere Richtungsänderungen.
Manchmal nach Links [L] im 'Gegenuhrzeigersinn', manchmal nach Rechts [R] im 'Uhrzeigersinn'. Zählen Sie die Anzahl Richtungswechsel nach Links [L] respektive nach Rechts [R].

Anzahl Richtungswechsel nach Links

Anzahl Richtungswechsel nach Rechts



Beispiel

Konzentration, 1. Teil

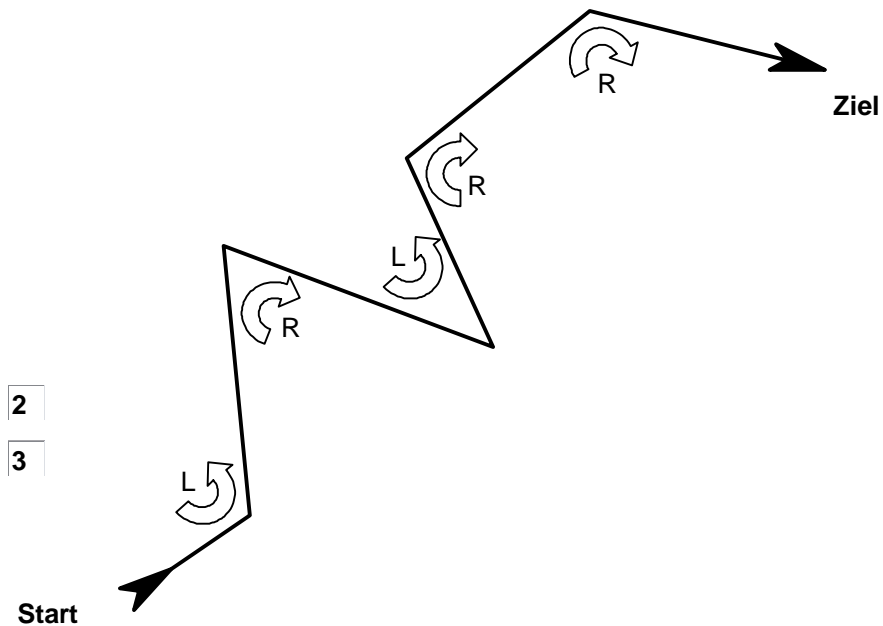
Multicheck Beauty



In der Zeichnung finden Sie einen Weg vom Start zum Ziel. Auf diesem Weg erfolgen mehrere Richtungsänderungen. Manchmal nach Links [L] im 'Gegenuhrzeigersinn', manchmal nach Rechts [R] im 'Uhrzeigersinn'. Zählen Sie die Anzahl Richtungswechsel nach Links [L] respektive nach Rechts [R].

Anzahl Richtungswechsel nach Links

Anzahl Richtungswechsel nach Rechts



Beispiel

Lösung

Konzentration, 2. Teil

Multicheck Beauty



Sind die beiden Reihen gleich?

Reihe 1	Reihe 2		
148394053	149394053	<input type="checkbox"/> Ja	<input type="checkbox"/> Nein
645394053	645394053	<input type="checkbox"/> Ja	<input type="checkbox"/> Nein



Beispiel

Konzentration, 2. Teil

Multicheck Beauty



Sind die beiden Reihen gleich?

Reihe 1	Reihe 2		
148394053	149394053	<input type="checkbox"/> Ja	<input checked="" type="checkbox"/> Nein
645394053	645394053	<input checked="" type="checkbox"/> Ja	<input type="checkbox"/> Nein



Beispiel

Lösung

Problemlöseverhalten

Multicheck Beauty



Welches der Bilder muss zu unterst angeordnet werden, welches in der Mitte etc. damit das Bild 'Ziel' entsteht?
Die untenstehende bildliche Herleitung ist bei den Aufgaben selbstverständlich nicht vorhanden.


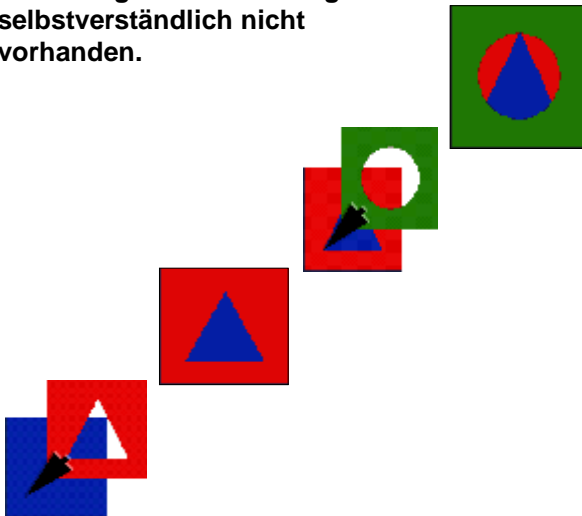


Diagram showing the arrangement of three images (A, B, C) in a stack to form the target image. The stack is labeled "unterstes Bild" (bottom image), "mittleres Bild" (middle image), and "oberstes Bild" (top image). Below each label are three checkboxes labeled A, B, and C.

unterstes Bild

mittleres Bild

oberstes Bild

A B C

A B C

A B C



Beispiel

Problemlöseverhalten

Multicheck Beauty



Welches der Bilder muss zu unterst angeordnet werden, welches in der Mitte etc. damit das Bild 'Ziel' entsteht?
Die untenstehende bildliche Herleitung ist bei den Aufgaben selbstverständlich nicht vorhanden.


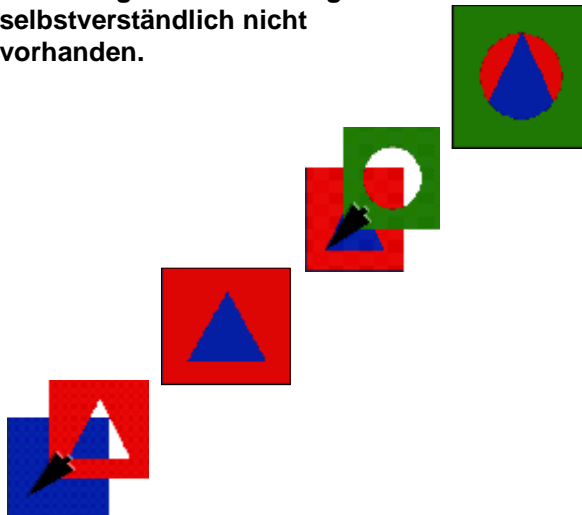


Diagram showing the arrangement of three images (A, B, C) in a stack to form the target image. The stack is labeled 'unterstes Bild' (bottom image), 'mittleres Bild' (middle image), and 'oberstes Bild' (top image).

unterstes Bild: A B C

mittleres Bild: A B C

oberstes Bild: A B C



Beispiel

Lösung

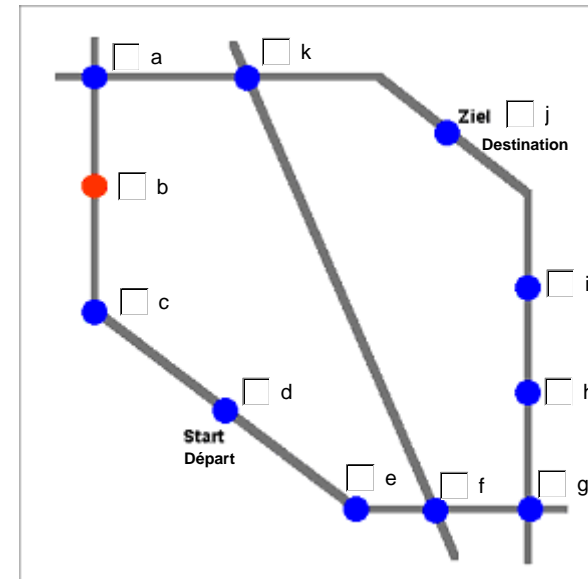
Problemlöseverhalten, 2. Teil

Multicheck Beauty



Raster

Anleitung: Sie sehen ein Netz von Bahnlinien. Sie wollen vom Start zum Ziel reisen. Der Preis wird berechnet nach der Anzahl durchfahrener Stationen (inkl. Start und Ziel), wobei jeder Kreuzungspunkt von zwei oder mehr Linien den doppelten Preis kostet. Auch die mit oranger Farbe gekennzeichneten Stationen kosten den doppelten Preis. Wählen Sie die Linie aus, die am billigsten ist.



Beispiel

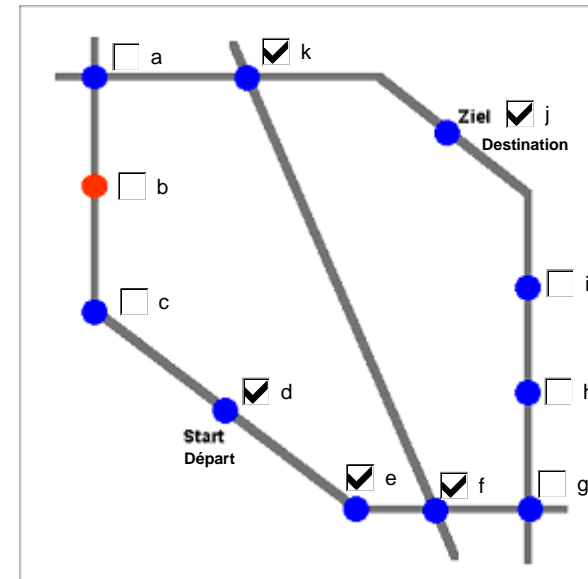
Problemlöseverhalten, 2. Teil

Multicheck Beauty



Raster

Anleitung: Sie sehen ein Netz von Bahnlinien. Sie wollen vom Start zum Ziel reisen. Der Preis wird berechnet nach der Anzahl durchfahrener Stationen (inkl. Start und Ziel), wobei jeder Kreuzungspunkt von zwei oder mehr Linien den doppelten Preis kostet. Auch die mit oranger Farbe gekennzeichneten Stationen kosten den doppelten Preis. Wählen Sie die Linie aus, die am billigsten ist.



Beispiel

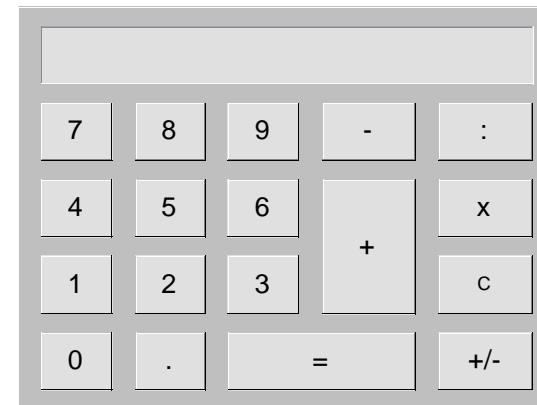
Lösung

Rechnen, 1. Teil



Sie geben einem Kunden 5%
Rabatt auf den Preis von CHF 500.-

Berechnen Sie den neuen Preis. CHF



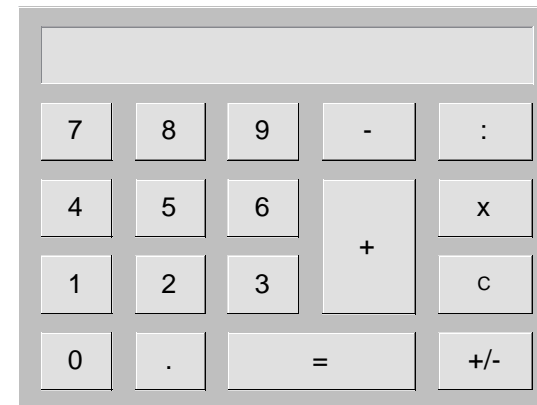
Beispiel

Rechnen, 1. Teil



Sie geben einem Kunden 5%
Rabatt auf den Preis von CHF 500.-

Berechnen Sie den neuen Preis. CHF



Beispiel

Lösung

Rechnen, 2. Teil

Multicheck Beauty



Rechnen Sie aus!

$$5 \text{ mal CHF } 100.- + 3 \text{ mal CHF } 20.- + 20 \text{ mal CHF } 0.05 = \text{ CHF }$$



Beispiel

Rechnen, 2. Teil

Multicheck Beauty



Rechnen Sie aus!

$$5 \text{ mal CHF } 100.- + 3 \text{ mal CHF } 20.- + 20 \text{ mal CHF } 0.05 = \text{ CHF } \boxed{561}$$



Beispiel

Lösung

Sinn für Farben und Formen

Multicheck Beauty



Welches Bild entspricht der 3-D Darstellung?

A diagram illustrating a 3D scene and its corresponding 2D projections. At the top right, a 3D scene is shown within a red border, featuring a yellow sphere and a blue cone on a gray and white checkered floor. A red arrow points from this scene towards the left. Below the scene, three 2D projection images are arranged in a descending staircase pattern, each with a small white checkbox to its left. The first projection (top) shows a yellow dot and a blue dot on a checkered background. The second projection (middle) shows a blue dot and a yellow dot on a checkered background. The third projection (bottom) shows a blue dot and a yellow dot on a checkered background. A red arrow labeled "Blickrichtung" (view direction) points from the bottom projection towards the 3D scene.






Beispiel

Sinn für Farben und Formen


Multicheck Beauty



Welches Bild entspricht der 3-D Darstellung?



Blick-
richtung



Beispiel

Lösung

Merkfähigkeit, 1. Teil

Multicheck Beauty



Zu Beginn der Abklärung wurden Ihnen mehrere Fotografien von Personen gezeigt.
Nun zeigen wir Ihnen wiederum Personen.
Waren diese Personen vorhanden? Beantworten Sie alle Fragen mit 'Ja' oder 'Nein'.



Ja Nein



Ja Nein



Ja Nein



Ja Nein



Ja Nein



Beispiel

Lösung

Personen und Gegebenheiten merken, 2. Teil

Multicheck Beauty



Beantworten Sie nun folgende
Fragen zum Text, den Sie gelernt
haben.

- Das Modellieren ist selbst für Profis sehr schwierig.
- Das Modellieren ist für Profis einfach.



Beispiel

Lösung